

Notes in the Treble Clef

Q. Name the pitch of the following notes up to one ledger line.

a) 

.....

b) 

.....

c) 

.....

d) 

.....

e) 

.....

f) 

.....

g) 

.....

h) 

.....

i) 

.....

j) 

.....

k) 

.....

l) 

.....

m) 

.....

n) 

.....

o) 

.....

p) 

.....

q) 

.....

r) 

.....

s) 


.....

t) 


.....


Answers


Q. Name the pitch of the following notes up to one ledger line.

a) 
 A

b) 
 F#


c) 
 D

d) 
 Bb


e) 
 C#


f) 
 D#

g) 
 D#

h) 
 Bb


i) 
 G#


j) 
 C#

k) 
 C#

l) 
 A#

m) 
 B


n) 
 G

o) 
 Bb

p) 
 Gb

q) 
 E

r) 
 F

s) 
 B

t) 
 Db
